

2020年度

中学校 社会

〈注意〉

- 1 開始の合図があるまで、問題用紙、解答用紙に手をふれないでください。
- 2 答えは、すべて解答用紙に書いてください。
- 3 受験番号は、算用数字で書いてください。名前は書かないでください。
- 4 解答用紙に、解答と受験番号以外のことを書いてはいけません。
- 5 問題用紙のあいたところは計算などに使ってもかまいません。
- 6 問題用紙、解答用紙を持ち帰ることはできません。
- 7 問題は、1ページから9ページまであります。
- 8 漢字で書けるものについては漢字で答えてください。
- 9 解答時間は理科とあわせて50分です。
- 10 物を落としたとき、体調が悪くなったとき、何か質問があるときは、だまって手をあげてください。

1 次の問いに答えなさい。

(1) 下の問いにあてはまる語句もしくは地名をア～エの中から選び、記号で答えなさい。

① 流域面積の最も大きい河川。

ア. 信濃川 イ. 利根川 ウ. 石狩川 エ. 北上川

② 2020年現在、最も面積の小さい都道府県。

ア. 佐賀県 イ. 大阪府 ウ. 東京都 エ. 香川県

③ 2020年現在、次の中で最も人口の多い都市。

ア. 名古屋市 イ. 大阪市 ウ. 横浜市 エ. 札幌市

④ 2020年現在、次の中で最も米を多く生産している県。

ア. 新潟県 イ. 秋田県 ウ. 宮城県 エ. 山形県

⑤ 地元で生産されたものをその地域で消費することをあらわす用語。

ア. 特別消費 イ. 地元集中 ウ. 地産地消 エ. 地元消費

⑥ 2020年現在、日本の漁業で、生産量が最も少ないもの。

ア. 養殖漁業 イ. 沿岸漁業 ウ. 遠洋漁業 エ. 沖合漁業

(2) 下の会話は関西創価中学校の授業での様子です。会話文を読み、あとの問いに答えなさい。

先生：学園にはいろいろな都道府県から生徒が来ています。今日はみなさんの出身地を、しょうかいしてもらいます。

生徒A：私の出身地には、日本一の生乳の産地や世界遺産で有名な知床半島があります。

生徒B：私の出身地には、サトウキビ畑や世界遺産で有名な首里城があります。

生徒C：私の出身地には、甲子園球場や世界遺産で有名な姫路城があります。

- 2 下の会話1と会話2は関西創価中学校の授業での様子です。会話文を読み、あとの問いに答えなさい。

<会話1>

先生：今、日本の社会ではどのようなことが話題になっていますか。

生徒A：a 最近、外国人観光客がとて多くなりました。多くの外国人が駅やデパートで歩いているのをよく見ます。

生徒B：b 反対に、日本から海外に行く人も増えています。私の兄もイギリスに留学する予定です。

生徒C：昔はこのようなことは少なかったのですか。

先生：50年前は、外国に行く人は少数だったそうです。

そこで今日の授業では、最近増加してきた外国人観光客について考えたいと思います。

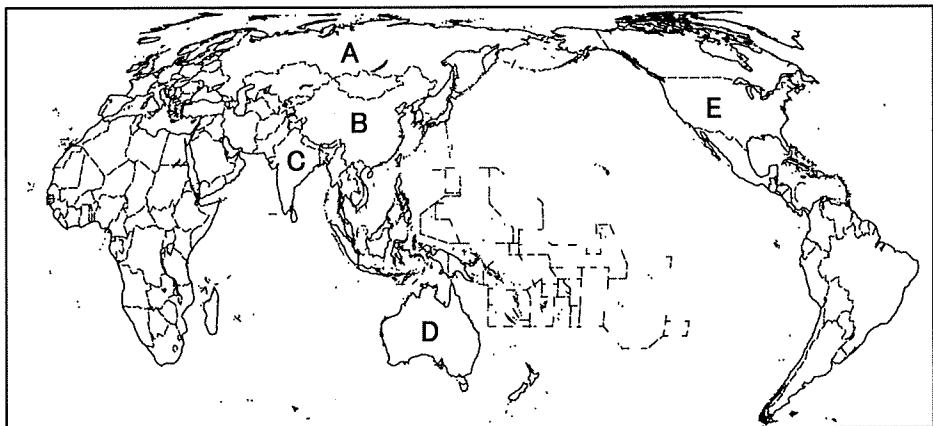
<会話2>

生徒D：最近よく聞く「少子化」や「^{こうれいか}高齢化」は、どういう意味ですか。

先生：「少子化」とは、生まれてくる子どもの数がしだいに減っていくことです。また「高齢化」とは、社会においてお年寄りの方々のしめる割合が増えていくことを意味します。40年後の日本の人口は現在の人口から3000万人も減ると言われています。これらのことは日本にとって大きな問題です。

- (1) 下線部aについて、次の問いに答えなさい。

- ① 現在日本への外国人観光客は、どの国からが一番多いですか。下の地図のA～Eの中から選び、記号で答えなさい。



- ② 近年、日本に来る外国人観光客が増加した具体的な理由を1つ答えなさい。

(2) 下線部 b について、現在日本人が海外に行くときに利用する空港で一番多いのは、どの空港ですか。記号で答えなさい。

- ア. 東京国際（羽田）空港 イ. 関西国際空港 ウ. 成田国際空港
エ. 新千歳空港

(3) 会話 2 について「少子化」の原因としてあてはまらないものを 1 つ選び、記号で答えなさい。

- ア. 男性、女性とも結婚する年齢が高くなってきたから。
イ. 「一人っ子政策」が行われたから。
ウ. 育児や子どもの教育にかかる費用が高くなったから。
エ. 育児や子どもの教育に悩む夫婦が増したから。
オ. 結婚後も働き続ける女性が増えたから。

(4) 「高齢化」が進むと社会にどのような影響がありますか。あてはまらないものを 1 つ選び記号で答えなさい。

- ア. 1 人あたりの受け取る年金の額が少なくなる。
イ. 日本人労働者が減り、外国人労働者の割合が増える。
ウ. 日本の会社の製品が、国内で売れなくなる。
エ. 地方で農業を行う人が増え、都市よりも地方が発展する。
オ. 介護や医療の必要性が増し、老人ホームや病院が多くなる。

3 次の文章を読んで、あとの問いに答えなさい。

A

室町時代は大きく文化が栄えました。中でも8代将軍の足利義政は、銀閣を建てました。しかし、義政のころになると幕府の力が弱まり、義政のあとつぎの問題に、全国の大名が二手に分かれて対立し、京都の町を舞台に a 大きな戦い へと発展していきました。この戦いはしだいに地方へと広がり、11年間も続きました。

B

豊臣秀吉のもとで有力な大名だった徳川家康は、秀吉の死後、多くの大名を味方につけていきました。これに不満をもった豊臣方の大名が集まり、西軍となって、徳川家康ひきいる東軍と戦いました。この戦いは「天下分け目の戦い」といわれています。この戦いに勝利した家康は、朝廷から武士のかしらとして認められ、江戸幕府を開きました。

C

北条時宗が執権として政治を行っていたころ、モンゴルが中国をしたがえてできた「元」という国が攻めてきました。全国から集められた武士たちは、2度にわたって攻めてきた元軍と戦いましたが、元軍の集団戦法や新兵器に苦しみました。しかし元軍は、武士たちの激しい抵抗や暴風雨などによって、大きな損害を受け大陸に引きあげました。

D

平氏のリーダーである平清盛は、武士として初めて太政大臣になった人物です。平氏は朝廷の中で強い力を持ち、政治を思うがままに行ったので、貴族やほかの武士たちの不満が高まりました。それを受け、平氏をたおそうと立ち上がったのが源氏です。源氏軍は、次々と戦いに勝利し、ついに平氏を追いつめてほろぼしました。

E

天下統一へ向けて勢力を拡大していた織田信長は、徳川家康との連合軍で、b 新兵器「鉄砲」 を使い、最強の騎馬隊をひきいる武田軍に勝利しました。この戦いに勝利した信長は、このあと天下統一の拠点として安土城を築き、ヨーロッパの国々と貿易をすることで進んだ文化や品物を日本にもたらしました。

(1) [A]にある、下線部 a の戦いを何といいますか。下から選び、記号で答えなさい。

- ア. 壇ノ浦の戦い イ. 長祿の戦い ウ. 応仁の乱 エ. 承久の乱

(2) [B]について徳川家康は、全国の大名に、自分の住む城以外の城の破壊を命じました。その理由として、次の中から正しいものを1つ選び、記号で答えなさい。

- ア. 大名に、たくさんの城を持って、ぜいたくな暮らしをさせないため。
 イ. こわした城のあと地を使って、農業の生産量を増やすため。
 ウ. 大名のもっている、戦争をおこす力を無くすため。

(3) [C]について、この戦いがもとで、武士たちが幕府に不満を持ちます。その理由を書きなさい。

(4) [D]について、平清盛が平氏の守り神として作り、今では世界文化遺産にも登録されている神社のある場所を、資料1の地図から選び記号で答えなさい。

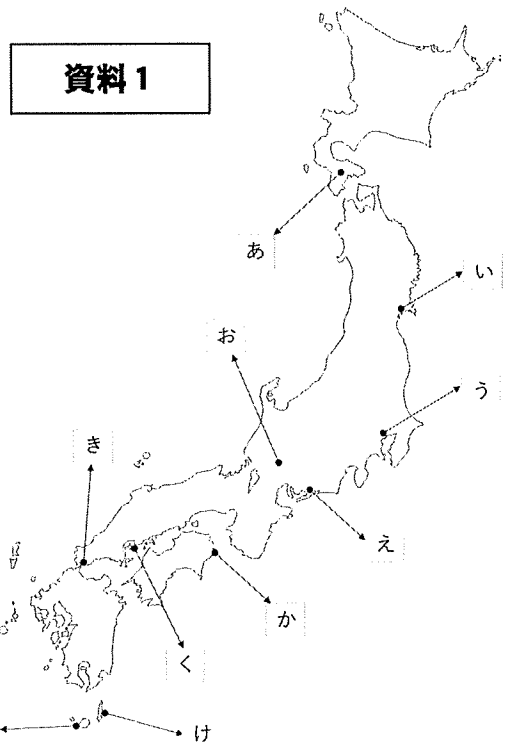
(5) [E]について、次の問題に答えなさい。

① 下線部 b の「鉄砲」は、最初、日本のどこに伝わりましたか。資料1の地図から選び、記号で答えなさい。

② 信長のころに商業都市である堺や長崎を中心に行われた貿易を何といいますか。下の中から選び、記号で答えなさい。

- ア. 勘合貿易 イ. 南蛮貿易 ウ. 日宋貿易 エ. 中継貿易

(6) [A]～[E]を古い順に並べたとき、4番目になるものを選び、記号で答えなさい。



4 次の文章を読んで、あとの問いに答えなさい。

江戸時代の終わりごろ、アメリカ合衆国の軍艦4隻が、東京湾にあらわれました。おどろいた人々は、「黒船が来た」と大さわぎをしました。

その軍艦を率いていた人は（ A ）といいます。（ A ）はアメリカ合衆国大統領の親書をわたして、日本に（ B ）を求めました。その結果、1854年 a 日本はアメリカ合衆国と条約を結びました。これによって、第3代将軍が始めた（ C ）が終わりました。

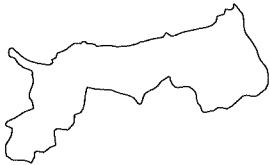
（ B ）に反対した人々は、外国と戦いましたが、大きな力の差を実感しました。そこで、まず外国に負けない強い日本をつくるために、新しい政府をつくる運動がおこりました。この動きを受け、江戸幕府の15代将軍は、政権を朝廷に返しました。これによって260年余り続いた江戸時代は終わりを告げました。

その後、明治天皇を中心とした新政府は、1868年新しい政治の方針を定め、 b 明治時代が始まりました。

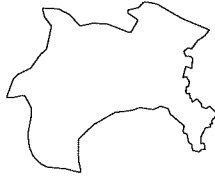
(1) （ A ）～（ C ）にあてはまる言葉を書きなさい。

(2) 下線部 a の条約によって、日本が開いた港が2つあります。それは北海道と何県の港ですか。下の都道府県をあらわす図から選び、記号で答えなさい。ただし縮尺は同じではありません。

ア



イ



ウ



エ



オ



カ



(3) 下線部 b の明治時代について、次の問いに答えなさい。


① 明治政府は欧米諸国に早く追いつくため、経済力と軍事力に重点をおいた政治を行いました。これを「富国強兵」といいます。下の文は、富国強兵政策の内容をあらわしています。まちがっているものを1つ選び、記号で答えなさい。

ア. 国の収入を安定させるために、これまで米で納めていた税を、お金で納めさせるようにした。

イ. 強い軍隊をつくるために、20歳以上の体力のある男子から、兵隊希望者を募集した。

ウ. 産業を盛んにするために、国が経営する工場に外国から進んだ機械を買い入れ、紡績や造船、兵器を開発した。

② 右の図は、明治時代を代表する工場です。ここでつくられた生糸は後に「トミオカ・シルク」とよばれ、明治の終わりには、日本の生糸の生産量・輸出量は世界一になりました。この工場は、今も国宝、世界遺産として残されています。日本の何県にありますか。県名を答えなさい。



③ 右の絵は、1886年(明治19年)におこった「ノルマントン号事件」のふうし画です。この事件のあと、日本国内では江戸時代の終わりに結んだ諸外国との不平等条約の改正をもとめる声が高まります。その結果、イギリスと交渉し をなくすことに成功しました。 に入る言葉を、漢字5文字で書きなさい。



5 第二次世界大戦後の日本について、次の問題に答えなさい。

- (1) 戦争に敗れた日本は、アメリカを中心とする連合軍に占領されました。連合軍の指導により、戦後改革が行われましたが、次の文章の中で、この時の戦後改革ではないものを1つ選び、記号で答えなさい。

- ア. 農民の多くが自分の農地をもつことができるようになった。
- イ. 小中学校9年間の義務教育が始まる。
- ウ. 好きな本を読み、好きなことを書くことができるようになった。
- エ. 25才以上の男性に、選挙権が与えられた。

- (2) 戦後、日本は急速に経済発展してきました。下の写真は、1964年(昭和39年)に行われたオリンピック東京大会の様子です。オリンピックの日本での開催は、戦後、国際社会に日本が復帰したことを伝える機会となりました。このオリンピック東京大会が開催された1960年代後半からは、新しく「3C」と呼ばれたものが各家庭に広まっていきます。この「3C」とは「自動車(カー)」「カラーテレビ」と、あと1つは何でしょうか。名前を書きなさい。

