

2021年度

中 学 校 社 会

〈注 意〉

- 1 開始の合図があるまで、問題用紙、解答用紙に手をふれないでください。
- 2 答えは、すべて解答用紙に書いてください。
- 3 受験番号は、算用数字で書いてください。名前は書かないでください。
- 4 解答用紙に、解答と受験番号以外のことを書いてはいけません。
- 5 問題用紙のあいたところはメモなどに使ってもかまいません。
- 6 問題用紙、解答用紙を持ち帰ることはできません。
- 7 問題は、1ページから10ページまであります。
- 8 漢字で書けるものについては漢字で答えてください。
- 9 解答時間は、理科とあわせて50分です。
- 10 物を落としたとき、体調が悪くなったとき、何か質問があるときは、だまって手をあげてください。

1 地球儀や地図についての文章を読み、あとの問いに答えなさい。

地球儀や地図には、たてと横の線が引かれています。たての線は（ア）度を表す線、横の線は（イ）度を表す線です。この2つで、地球上でのすべての位置を示すことができます。たての線は北極と南極をむすぶ線で、〔A〕の旧グリニッジ天文台を通る線を0度として、東側と西側をそれぞれ180度まで等しい間隔に分けています。横の線は（ウ）を0度として、北側と南側をそれぞれ90度まで分けています。

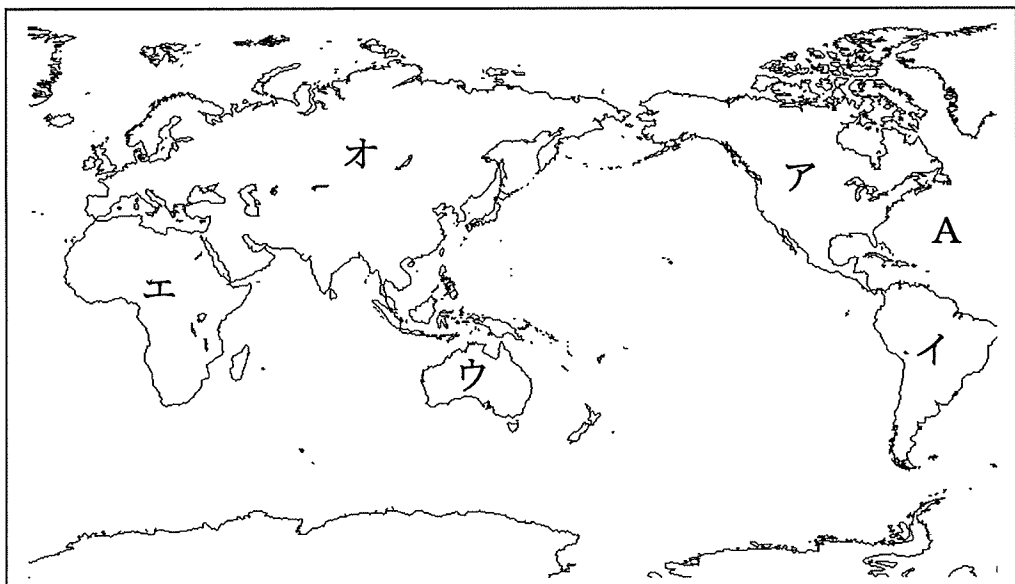
(1) 空らん（ア）～（ウ）にあてはまる文字または語句を答えなさい。

(2) 空らん〔A〕にあてはまる国名を答えなさい。

2 下の世界地図を見て、あとの問いに答えなさい。

(1) ユーラシア大陸はどれですか。地図中のア～オから選びなさい。

(2) 地図中のAにあてはまる海洋名を答えなさい。



3 日本領土についての文章を読み、あとの問いに答えなさい。

日本は、海に囲まれた島国で、北海道・(①)・四国・九州の4つの大きな島と^{おきなわとう}沖縄島や^{あわじしま}淡路島などおよそ7000の島々からなりたっています。

北のはしの(②)島から西のはしの島までを直線でむすぶと、その^{きょり}距離は約3300kmにもなります。

日本のもつ陸地と、陸地に囲まれた湖や川などを合わせて領土といいます。日本には、領土、③領海、領空が定められています。

(1) 空らん(①)と(②)にあてはまる島の名前を答えなさい。

(2) 次のA～Cにあてはまる島の組み合わせを選び、記号で答えなさい。

A : 日本^{さいせいたん}の最西端にある島

B : 日本^{さいとうたん}の最東端にある島

C : 日本^{さいなんたん}の最南端にある島

ア. A : ^{みなみとりしま}南鳥島 B : ^{おきのとりしま}沖ノ鳥島 C : ^{よなぐにじま}与那国島

イ. A : 与那国島 B : 南鳥島 C : 沖ノ鳥島

ウ. A : 沖ノ鳥島 B : 与那国島 C : 南鳥島

エ. A : 与那国島 B : 沖ノ鳥島 C : 南鳥島

(3) 文章中の下線部③について、日本は何^{かいり}海里に定められているかを選び、記号で答えなさい。

ア. 3海里 イ. 12海里 ウ. 100海里 エ. 200海里

(4) 近年、日本全体の漁業生産量が減少してきた理由として、あてはまらないものを下のア～オから1つ選び、記号で答えなさい。

- ア. 外国の船がとってよい魚の種類や量がきびしく制限され、遠洋漁業の生産量がいちじるしく減った。
- イ. 海水温が上がるなどして、沖合漁業の生産量がいちじるしく減った。
- ウ. 日本沿岸の海がよごれて、養しよく漁業の生産量がいちじるしく減った。
- エ. わかい人を中心に、漁業で働く人が年々減っている。
- オ. 外国からの水産物の輸入が増加した。

4 次の文章を読み、あてはまる県を選び、記号で答えなさい。

(1) 県の南に面している有明海^{ありあけかい}で、のりの養しよくがさかんである。

- ア. 三重県 イ. 鹿児島県^{かごしま} ウ. 佐賀県^{さが} エ. 兵庫県^{ひょうご}

(2) 佐渡島^{さどがしま}があり、日本でいちばん長い信濃川^{しなの}が、日本海に注いでいる。

- ア. 群馬県^{ぐんま} イ. 新潟県^{にいがた} ウ. 山梨県^{やまなし} エ. 埼玉県^{さいたま}

(3) 日本でいちばん広い湖の琵琶湖^{びわこ}がある。

- ア. 長野県 イ. 滋賀県^{しが} ウ. 島根県 エ. 福島県

(4) 県の南は、瀬戸内海^{せとないかい}に面しており、世界遺産である厳島神社^{いつくしまじんじや}がある。

- ア. 山口県 イ. 香川県^{かがわ} ウ. 岡山県 エ. 広島県

(5) リンゴの生産量が日本でいちばんである。

- ア. 和歌山県 イ. 山梨県^{やまなし} ウ. 新潟県^{にいがた} エ. 青森県

5 日本は古くから世界の国々と、文化やさまざまなものでつながり合ってきました。日本と世界の間について、次の問いに答えなさい。

(1) 中国の古い歴史の本には、3世紀ごろ、邪馬台国の王が中国に使いを送り、おくり物をしたので、中国の皇帝は、そのお返しに倭王の称号をあたえ、金印や銅の鏡などを授けたと書かれています。その邪馬台国の王は誰ですか。

(2) 5世紀ごろから、中国や朝鮮半島の国々との行き来がさかんになり、大陸から日本に移り住む人が多くなりました。彼らは日本に養蚕やはた織り、鍛冶などの技術、漢字や仏教を伝えました。彼らを何といいますか。

(3) 8世紀、朝廷は仏教の教えを正しく広めるために、中国から鑑真というすぐれた僧を招きました。鑑真は6度めの航海でようやく日本にたどり着き、仏教の発展に大きな役割を果たしました。彼が奈良に建てた寺院を選び、記号で答えなさい。

ア. 法隆寺 イ. 唐招提寺 ウ. 正倉院 エ. 飛鳥寺

(4) 室町時代に、中国から伝えられた水墨画が芸術として大成しました。中国にわたって水墨画の技能を高め、帰国して、国宝の「天橋立図」をえがいた人物を選び、記号で答えなさい。

ア. 行基 イ. 雪舟 ウ. 世阿弥 エ. 歌川広重

(5) 豊臣秀吉は、中国を征服しようと考え、その足がかりとして2度にわたって朝鮮に大軍を送りました。この戦いで、焼き物の技術者が日本に連れてこられました。彼らを通して高い技術が日本に伝えられ、各地で焼き物作りがさかんになりました。その1つである佐賀県の焼き物を選び、記号で答えなさい。

ア. 有田焼 イ. 萩焼 ウ. 薩摩焼 エ. 信楽焼

(6) 江戸時代、将軍が代わるごとに、朝鮮からお祝いと友好を目的とした朝鮮通信使が江戸をおとずれました。その窓口となったのは、何藩ですか。

ア. 松前藩 イ. 水戸藩 ウ. 土佐藩 エ. 対馬藩

(7) 1890年、軍艦エルトゥール号が、和歌山県沖の海で沈没しました。このとき、和歌山県の人々は、生存者の救助や手当などにつくし、全国からも多くのお金や物資が寄せられました。現在も、この船の国の人々との交流が続いています。この国はアジアとヨーロッパにまたがっています。この国を選び、記号で答えなさい。

ア. ブラジル イ. トルコ ウ. サウジアラビア エ. インド

(8) 1951年、サンフランシスコ講和会議が開かれ、日本は48カ国と平和条約を結び、翌年に独立を回復しました。そのとき、条約に調印しなかった国を選び、記号で答えなさい。

ア. アメリカ イ. イギリス ウ. ソ連 エ. スペイン

- 6 次の文章を読んで、A と B の下線部に関するあとの問いに答えなさい。

人類と A 感染症 との関わりの歴史は古く、人類の誕生とともに感染症との闘いの歴史が始まったといっても過言ではないでしょう。現代生活においては、人や物の移動の高速化にともない、感染症は地球規模で流行しています。

昨年は、「東京2020 B オリンピック」の開催が、感染症の影響により延期となりました。

【A 感染症に関する問題】

- (1) 日本では8世紀の中ごろ、感染症によって平城京の多くの人々がなくなり、全国各地で災害や反乱が次々に起こるなど、社会全体に不安が広がっていました。その時の聖武天皇は、世の中の不安をさずめるために、都に何をつくりましたか。
- (2) 平安時代の後半、感染症がはやり、不安が広がりました。この不安から、阿彌陀仏の極楽浄土に対するあこがれが強まり、多くの阿彌陀堂がつくられました。世界遺産に登録された下の写真の阿彌陀堂をつくった人物を選び、記号で答えなさい。

ア. 藤原道長

イ. 藤原頼通

ウ. 藤原清衡

エ. 藤原鎌足



- (3) 2024年から流通する新千円札の肖像画の人物は、破傷風という感染症の療法を開発し、世界的な感染症の研究所を設立した人に決まりました。その人物を選び、記号で答えなさい。

ア. 北里柴三郎 イ. 志賀潔 ウ. 野口英世 エ. 前野良沢

- (4) 第一次世界大戦の終結を早めた理由の1つに、スペイン風邪とよばれる感染症の世界的な流行がありました。この戦争の後、世界の平和を守ることを目的に結成された国際連盟の事務局次長として活やくした日本人を選び、記号で答えなさい。


ア. 福沢諭吉 イ. 新渡戸稲造 ウ. 陸奥宗光 エ. 小村寿太郎

【B オリンピックに関する問題】


- (5) 1940年に開催が決まっていた東京オリンピックは、戦争開始を理由に日本が開催を辞退しました。辞退を決めるきっかけとなった戦争を選び、記号で答えなさい。

ア. 日清戦争 イ. 日露戦争 ウ. 日中戦争 エ. 太平洋戦争

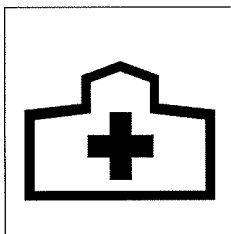
- (6) 「東京2020オリンピック」の開催に向けて、国土地理院は外国人向けの地図記号を決定しました。右の日本の地図記号にあたる、外国人向けの地図記号を下のア～エから選び、記号で答えなさい。




ア.



イ.



ウ.



エ.



- 7 最近、街中で次のようなロゴを見かける機会が増えました。これについて、あとの問いに答えなさい。



- (1) これは「()な開発目標」と訳される、国連の取り組み「SDGs」を表すロゴです。空らんにあてはまる語句を選び、記号で答えなさい。

ア. 持続可能 イ. 平和的 ウ. 国際的 エ. 多様

(2) 2020年7月1日より、全国でプラスチック製の買物袋（レジ袋）の有料が義務化されました。経済産業省は、「普段何気なくもらっているレジ袋を有料化することで、それが本当に必要かを考えていただき、私たちのライフスタイルを見直すきっかけとすることを目的」としています。このレジ袋の有料化は、SDGsの取り組みとも大いにつながっています。

あなたは「レジ袋の有料化」は、SDGsの17の目標の中のどの目標につながっていると思いますか。あなたが選んだ目標番号と、選んだ理由を書いてください。いろいろな答えが考えられます。

※1 ライフスタイル … 生活習慣

目標1	貧困をなくそう
目標2	飢餓をゼロに
目標3	すべての人に健康と福祉を
目標4	質の高い教育をみんなに
目標5	ジェンダー平等を実現しよう
目標6	安全な水とトイレを世界に
目標7	エネルギーをみんなに そしてクリーンに
目標8	働きがいも経済成長も
目標9	産業と技術革新の基盤をつくろう
目標10	人や国の不平等をなくそう
目標11	住み続けられるまちづくりを
目標12	つくる責任 つかう責任
目標13	気候変動に具体的な対策を
目標14	海の豊かさを守ろう
目標15	陸の豊かさも守ろう
目標16	平和と公正をすべての人に
目標17	パートナーシップで目標を達成しよう